

4. La economía y la sociedad del antiguo Egipto

Los antiguos egipcios llamaban a su tierra Kemet o Kemi, que significa "tierra negra", por el aspecto de la tierra cuando se deposita el limo llevado por las inundaciones del Nilo. Allí vivían sus habitantes dedicados esencialmente al cultivo.

La agricultura como actividad fundamental

La economía egipcia estaba basada en la **agricultura**, actividad a la que se dedicaba la mayor parte de la población. El cultivo de la tierra dependía del río Nilo, que con sus crecidas irrigaba y fertilizaba el suelo. Los cultivos más importantes eran el trigo y la cebada; con ellos, se elaboraban los alimentos primordiales: el pan y la cerveza. Con el lino, los egipcios confeccionaban las vestimentas. La agricultura se complementaba con algunas actividades ganaderas.

El tributo y los censos


La organización de la economía de Egipto era **tributaria**. Los habitantes de Egipto estaban obligados a entregarle al Estado una contribución, el **tributo**, que se pagaba en productos. Se tributaba al faraón, ya que para los egipcios todas las tierras le pertenecían. Cada año el gobierno hacía un **censo**; es decir, enviaba a los funcionarios a visitar los campos y realizar un registro de los granos y el ganado existentes. Sobre la base de este registro, se establecían los tributos que debía aportar cada campesino al faraón. El nomarca recogía el tributo en cada provincia y mandaba una parte al granero real. Los productos de las huertas y del campo eran almacenados en este granero. En los nomos también había depósitos donde se almacenaba una parte de los tributos de la región. Los tributos eran utilizados por el Estado para diversas cuestiones, como el pago de los funcionarios que integraban el gobierno, el intercambio con otros Estados y el reparto de los granos almacenados entre la población en épocas de malas cosechas.

RESPONDEMOS CON LO QUE SABEMOS


- ¿Qué relación había entre la agricultura egipcia y el río Nilo? ¿Quiénes se ocupaban de esta actividad económica en la que se basaba la subsistencia de esta civilización?
- ¿Qué conocen acerca de la organización social de los egipcios? ¿Había esclavos? ¿A qué se dedicaban?



••• Representación de escenas agrícolas (panel de la tumba de un funcionario de la dinastía XIX).



••• Escena de un censo de ganado. Los escribas, sentados, realizan su tarea sobre papiros, mientras el inspector se mantiene de pie. Imagen de una tumba de Tebas.




••• Esta estatuilla testimonia otra de las formas en que se aprovechaban los recursos del Nilo: la pesca. Hallada en la tumba de Meketre II (dinastía XI).


La organización social



La sociedad egipcia estaba organizada en forma piramidal. En el vértice de la pirámide del poder se encontraba el **faraón**, considerado una divinidad viviente, la persona más importante de la sociedad egipcia. El faraón concentraba la autoridad política, militar y religiosa.



Por debajo del faraón, se ubicaban los **sectores sociales privilegiados**, que ocupaban los cargos del gobierno: funcionarios del Estado, sacerdotes, escribas, nomarcas y jefes militares. Estos sectores estaban exentos del pago de tributo y disponían de grandes extensiones de tierra otorgadas por el faraón, y muchas personas para su servicio.



Los **artesanos** y los **comerciantes** conformaban un grupo social intermedio. Generalmente, cumplían sus tareas en la casa del faraón o en los templos; trabajaban la piedra o la madera, o se dedicaban a la alfarería, los tejidos y la metalurgia. Los más hábiles gozaban de mejor posición. Pagaban tributo al Estado con sus trabajos.



En la base de la sociedad estaban los **campesinos**, que se dedicaban al cultivo y vivían en aldeas. Se los consideraba hombres libres. Trabajaban parcelas, que les asignaba el Estado, y también las tierras del faraón, de los funcionarios y de los templos. Además, pagaban tributos en especie y ayudaban en la construcción de las grandes obras públicas, como las pirámides, los diques, los palacios, etcétera.

También, existían **esclavos** que eran extranjeros, tomados como prisioneros de guerra u obtenidos por compra. Pero su número era reducido y no desempeñaban un papel importante en la sociedad ni en la economía egipcia.



A Relaciones en contexto

Economía y actores sociales

1. Observen la pirámide social y **relean** el texto de esta página. **Respondan**:

- ¿Qué actividades realizaba cada sector representado?
- ¿Qué beneficios tenía el sector social privilegiado?

2. Relacionen el tamaño del sector de la pirámide correspondiente a los campesinos, con la economía predominante en Egipto:

- ¿Por qué representaban la mayor parte de la población?
- ¿Por qué el faraón se encuentra en la cúspide?
- Teniendo en cuenta lo leído en estas páginas, **respondan**:
 - ¿Por qué el río Nilo era muy valorado por los egipcios?
 - ¿Por qué llamaban a su país "La Tierra Negra"?
 - ¿Qué significa que la organización económica egipcia era tributaria? ¿Quiénes pagaban el tributo? ¿Quiénes estaban exceptuados?